



Naam:

L3

W.O. deel 1

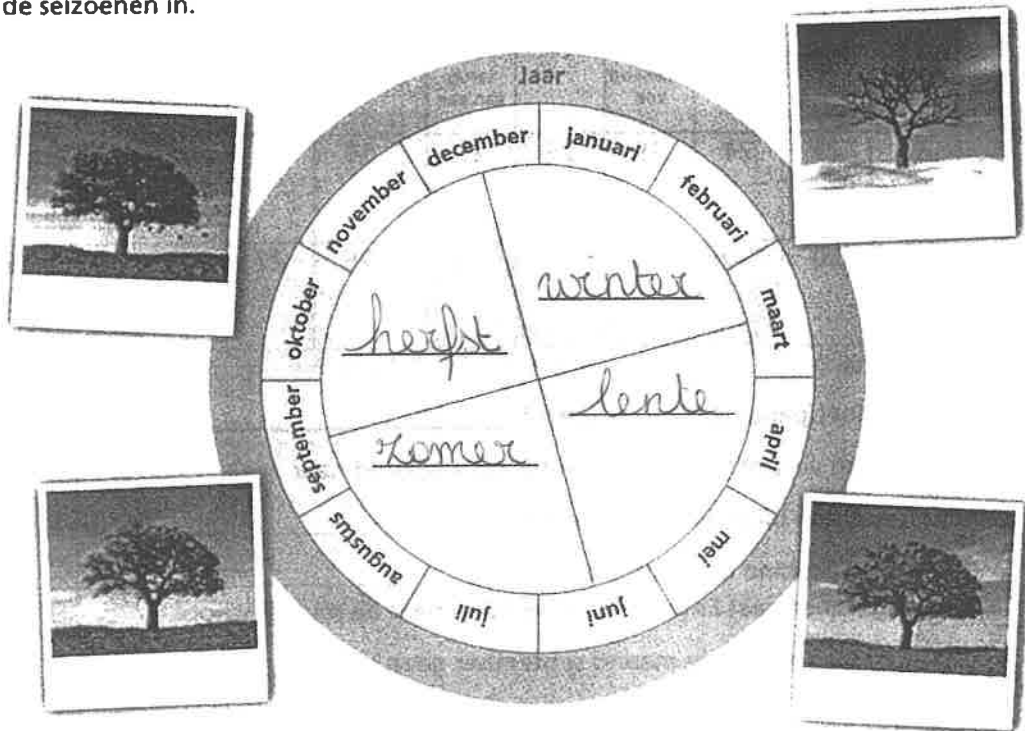
Thema: Je hoort erbij

Werken met de kalender.



Ken je de seizoenkalender nog?

■ Vul de seizoenen in.





Naam:

L3

Bekijk de kalender van de familie Smets.

Beantwoord de vragen.

september						
ma	di	wo	do	vr	za	zo
	1 eerste school- dag	2	3	4	5	6
7	8	9	10	11	12	13 start Chiro
14	15 papa tandarts	16	17	18 weekend zee	19	20 terug van zee
21	22	23	24	25	26	27
28	29	30				

oktober						
ma	di	wo	do	vr	za	zo
			1	2	3 Emma jarig	4
5	6	7	8	9	10	11 zoo met opa en oma
12	13	14	15	16	17	18
19	20	21 mama film	22	23	24	25
26	27	28	29 ouder- avond	30	31	

- Wanneer moet papa naar de tandarts? dinsdag 15 september
- Op welke dag vertrekt de familie Smets op weekend naar zee? vrijdag 18 september
- Hoeveel nachten blijft de familie weg? 2
- Wat staat er gepland op 11 oktober? naar de zoo
- Vanaf september gaat Emma elke woensdag naar de muziekschool.
Hoeveel keer kan ze in de maand september gaan? 5
- Noteer de verjaardag van Emma voluit en verkort.

Voorbeeld

Papa naar de tandarts

Datum: 15 september 2020 of 15-09-2020

Dag van de week: dinsdag

Gelukkige verjaardag Emma!

Datum: 3 oktober of 03/10

Dag van de week: Zaterdag





Naam:

L3

- Kleur de maanden met 31 dagen groen.
- Kleur de maanden met 30 dagen geel.

Tip!

Kijk naar de knokkels van je hand!

september	december	april	juni
januari	oktober	februari	november
maart	augustus	mei	juli

Beantwoord de vragen.

- Het is nu september. Wat is de vorige maand? augustus
- We zijn in de maand april. Welke maand is de volgende maand? mei
- November is bijna voorbij. Welke maand komt daarna? december
- Welke maanden horen bij de herfst? september, oktober, november, december
- Bij welk seizoen horen de maanden maart, april, mei en juni? lente
- Een jaar met 366 dagen is een schrikkeljaar / ~~geen schrikkeljaar~~.



Naam:

L3

SEPTEMBER							OKTOBER							NOVEMBER							DECEMBER											
M	D	W	D	V	Z	Z	M	D	W	D	V	Z	Z	M	D	W	D	V	Z	Z	M	D	W	D	V	Z	Z					
1	2	3	4	5	6	7	1	2	3	4	5															1	2	3	4			
8	9	10	11	12	13	14	6	7	8	9	10	11	12	3	4	5	6	7	8	9	8	9	10	11	12	13	14					
15	16	17	18	19	20	21	13	14	15	16	17	18	19	10	11	12	13	14	15	16	15	16	17	18	19	20	21					
22	23	24	25	26	27	28	20	21	22	23	24	25	26	17	18	19	20	21	22	23	22	23	24	25	26	27	28					
29	30						27	28	29	30	31			24	25	26	27	28	29	30	29	30	31									

sportdag
eerste rapport
herfstvakantie
speelgoedmarkt
een kunstenaar op bezoek

- 1 > Vul in.
 Vandaag is het donderdag 4 september.
 Morgen is het vrij dag 5 september.
 Gisteren was het woens dag 3 september.
 Overmorgen is het vater dag 6 september.
- 2 > Noteer naast elke activiteit de juiste datum.
 Sportdag: 15 september
 Eerste rapport: 24 oktober
 Speelgoedmarkt: 29 november
 Een kunstenaar op bezoek: 11 december
- 3 > De herfstvakantie begint op Zaterdag 25/10 en eindigt op Zondag 01/11. De herfstvakantie duurt 9 dagen.
- 4 > Kleur de volgende activiteiten op de kalender bruin.
 14 oktober: bezoek aan de zoo 20 november: naar de bioscoop
 25 november: theatervoorstelling 5 december: sinterklaasfeest
- 5 > Vul de juiste maand in.
 De negende maand van het jaar is september.
 De derde maand van het jaar is maart
 De vijfde maand van het jaar is mei
 De zesde maand van het jaar is juni
 in juli en augustus is het zomervakantie.



Naam:

L3

Het communicatieschema

Wie is de zender, wie is de ontvanger en wat is de boodschap?

☑ Verbind met een pijl.

zender ontvanger boodschap



zender ontvanger boodschap



De hoeden van Bono. Ik kan uitspraken linken aan de juiste hoed.





Naam:

L3

- De ritssluiting van Wiebe zijn jas is stuk. Lees elke uitspraak en verbind ze met de bijhorende hoed.
- Bespreek met je buur.

Oh nee, oma zal verdrietig zijn ... Ik kreeg die jas van haar.

Ik knutsel van de ritssluiting iets nieuw en leuk. Tof!

Wat erg! Nu krijg ik vast nooit meer een nieuwe jas.

Ja, die is stuk. De haakjes passen niet meer in mekaar. Die herstelling kost geld.

Joris kan de jas nog gebruiken, maar dan moet er een nieuwe ritssluiting in. We zullen wel zien wat er gebeurt.

Ik vind het niet zo erg. Nu hoef ik mijn sluiting nooit meer dicht te doen. Dat is makkelijker.

wit geel
zwart rood
groen blauw



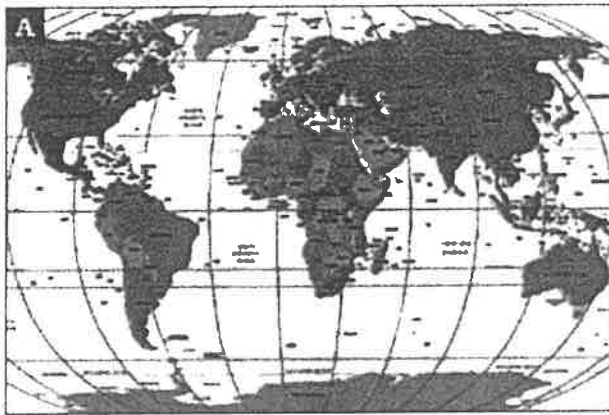
Naam:

L3

Thema: Bij ons in de buurt

Soorten kaarten


- Schrijf onder elke afbeelding de best passende naam.
Kies uit: *luchtfoto - stratenplan - maquette - wereldkaart.*



wereldkaart



stratenplan



maquette



luchtfoto

Welke kaart is de beste keuze? Schrijf de juiste letter achter de zin.

- Pieter zoekt de Kerkstraat.
- Dante heeft een kaartje van zijn oom in Brazilië gekregen. Hij wil weten waar het kaartje vandaan komt.
- De architect laat zijn ontwerp van het stadsdeel aan de burgemeester zien.
- Didier wil weten of zijn burens een grote tuin hebben.

B
A
C
D



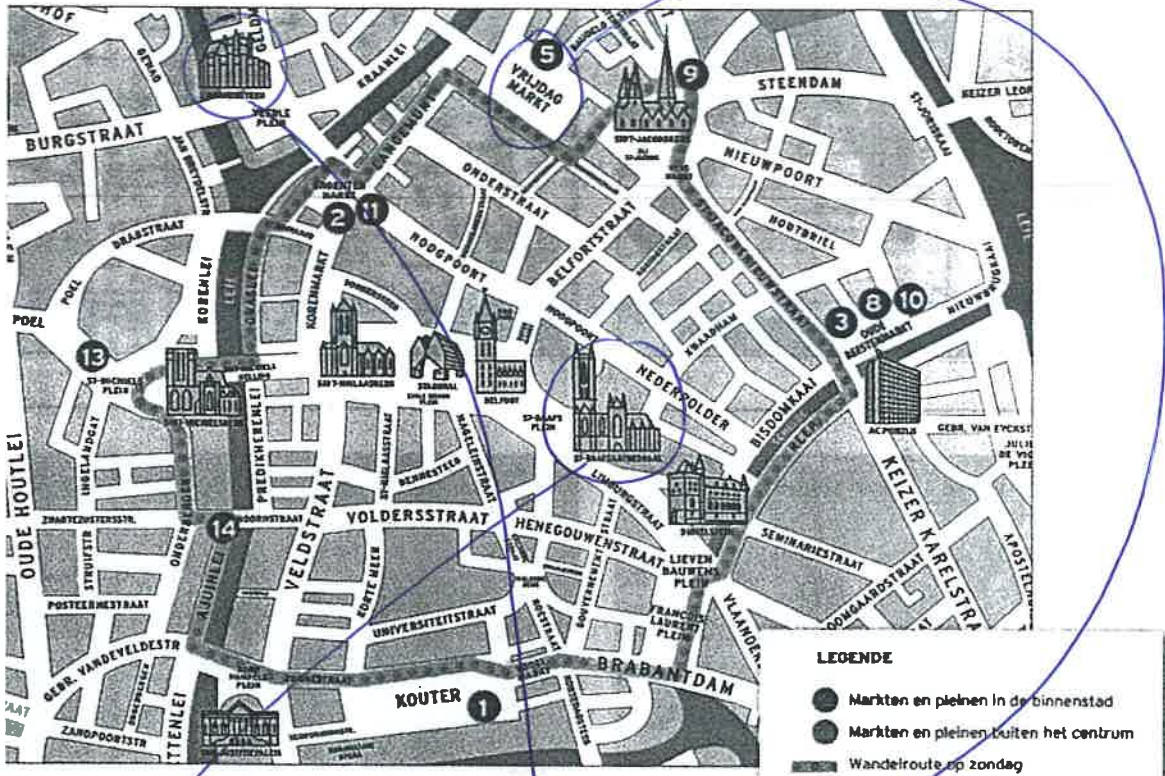
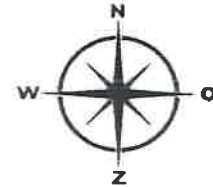
Naam:

L3

Werken met een plattegrond.

OPDRACHT 2

- Bekijk de plattegrond en de legende.
- Teken een cirkel rond de plaatsen die je leerkracht zegt.
- Verbind de foto's met de juiste plaats op de plattegrond.
- Luister goed naar je leerkracht om Seppe te vinden.
Kleur daarna de weg die Fleur heeft afgelegd.



■ Vul in met de juiste windrichting.

De Sint-Baafskathedraal ligt ten oosten van het belfort.

De Sint-Niklaaskerk ligt ten westen van het belfort.

De Vrijdagmarkt ligt in het noorden van de stad.

Als ik van de Vrijdagmarkt naar de Stadshal wil, moet ik naar het zuiden.



Naam:

L3

Onze schoolbuurt

1. Wat hoort bij welk nummer?

1. Mijlpaal	6. gedenksteen Alfons Byn
2. biel	7. kerk
3. bostorie	8. pontbrug
4. pastorie	9. pietje pek
5. station	10. dienstencentrum

2. Werken met coördinaten. Wat zie je bij welk coördinaat?

C 1 = Mijlpaal	G 5 = gedenksteen
E 4 = pastorie	G 1 = Pietje pek

3. Werken met coördinaten. Geef zelf de juiste coördinaat.

Kerk = H4	Bostorie = F4
Dienstencentrum = H4	Station = D5 en D6

4. Werken met coördinaten. Beantwoord de vragen.

Door welke vakken loopt de spoorweg? A5, B5, C5, D6

Waar ligt de 'Kemmeterlaan'? C4

Het Jaagpad vind je in H5

Welke straat loopt door H 3? Steenhuisdreef

De windroos vind je in J6 en I6



Naam:

L3

5. Benoem deze elementen.



kerk Sint-Gerolf




dienstencentrum



parkbrug



nutsvoorziening



openbaar gebouw



horeca



Naam:


L3



muitspoezing



gedenksteen Alfons Byn

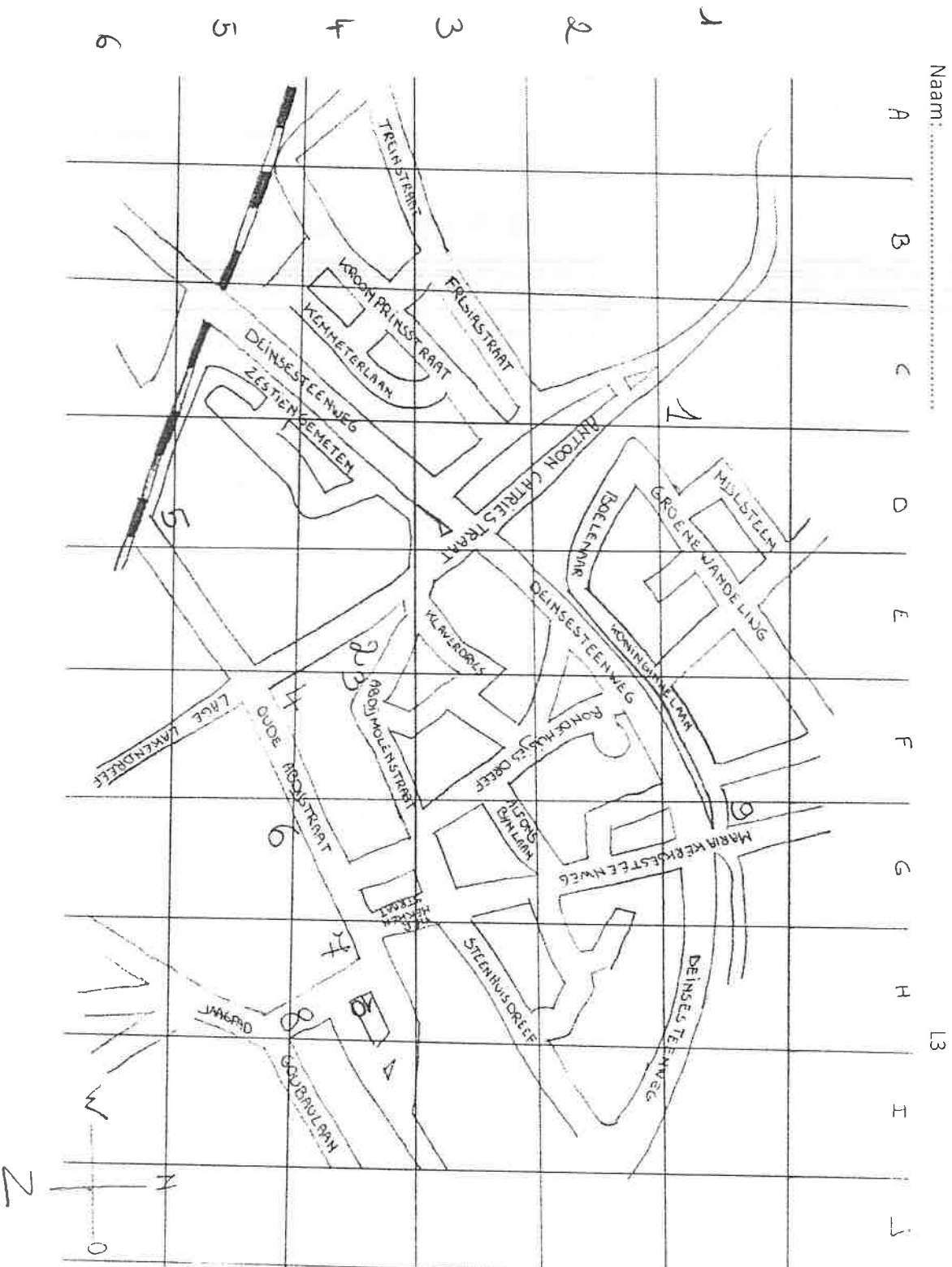


handelszaak



GO! BASISCHOOL
Mijlpaal

Naam:



Lid van Scholengroep Gent
Groenewandeling 80, 9031 Drongen
Tel: 09/ 226 75 00 - Fax: 09/ 226 92 56
e-mail: bs.mijlpaal@pantarche.be
website: www.bs.mijlpaal.be



Naam:

L3

Kies uit: *maquette* – *legende* – *plattegrond*.

We hebben onze schoolomgeving op twee manieren voorgesteld.

We hebben een plattegrond getekend en we hebben er daarna met doosjes/
blokjes een maquette van gemaakt. Bij de *plattegrond* kun je elk gebouw
herkennen door naar de legende te kijken.

Als je de doosjes/blokjes van de maquette wegneemt, zie je de plattegrond
opnieuw.

- Bekijk de plattegrond van de gemeente.
- Vul de passende windrichting in.

Onze school ligt in het noordwesten van de gemeente.

Het gemeentehuis/stadhuis ligt in het oosten van de gemeente.

De kerk ligt in het oosten van de gemeente.

Er ligt een groengebied of park in het zuiden van de gemeente.



Werken met een fictieve plattegrond.

- Kijk goed naar de tekening.
- Gebruik ook de plattegrond op de volgende pagina.
- Beantwoord de vragen.


Ik zit op het terras van de taverne en ik wandel naar de kerk. Aan mijn linkerkant zie ik een
groot gebouw. Het is een grootwaerhuus. Tegenover de kerk zie ik
een feestzaal. Voorbij de kerk ga ik naar links. Links voor mij zie ik
een plein met daarop een
mooi standbeeld. Ik stap over het plein
richting een parkeerterrein in het dorp. Dat ligt
naast de school.
Ik steek het parkeerterrein over en ik stap het
gebouw voor mij binnen. Waar ben ik? In
de taverne.





Naam:

L3



Je rijdt het dorp via de Brugstraat binnen. Je slaat rechtsaf en neemt de eerste straat links.

Aan je rechterkant zie je dan de school. Je rijdt verder tot aan de hoek van de Kerkstraat en ziet daar links de kerk.

Je slaat rechtsaf: je bent nu in de Torenlaan. Je neemt opnieuw de eerste straat rechts en komt in de Boterweg.

In die straat zie je meteen links een gebouw. Het is een taverne. Je rijdt verder door, steekt het kruispunt over en gaat het eerste gebouw links binnen. Dat is een frituur.



Naam:

L3

Deze diensten ken ik en kan ik linken aan een vraag.

MOBILITEIT



Mobiliteit: alles wat te maken heeft met verkeer

De school wil graag een buitenspeeldag organiseren. Op die dag mogen er geen auto's in de straat staan.

Vragen die je kunt stellen:

Wanneer vindt de buitenspeeldag plaats?

Hoelang gaat het duren?

Ga je heel de straat gebruiken?

Waar moeten de ouders hun kind afzetten of ophalen?

Heb je hekken nodig?

Moet er een agent komen helpen?

MILIEUDIENST



Milieu: alles wat te maken heeft met de natuur, afval en een propere omgeving

Je hebt samen met je ouders de tuin onder handen genomen en je hebt heel veel groenafval. Je wilt weten waar je dat kunt afleveren.

Vragen die je kunt stellen:

Hoeveel afval heb je?

Is het alleen groenafval?

Kun je het zelf vervoeren naar het containerpark?

Ken je iemand die het voor jou kan vervoeren?

Weet je waar het containerpark is?

Weet je wanneer het containerpark open is?

BRANDWEER



Brandweer

De leerkrachten willen leren hoe ze het brandblusapparaat juist gebruiken.

Vragen die je kunt stellen:

Weet je welke leerkrachten dat willen leren?

Kunnen ze zich op dezelfde dag vrijmaken?

Willen ze de uitleg graag op school krijgen?

Weten ze ook hoe ze met het brandalarm moeten werken?

Willen ze het ook graag echt proberen?

JEUGDDIENST



Jeugddienst: wat organiseren ze in mijn gemeente voor kinderen en jongeren?

Je zoekt een fijne, creatieve hobby.

Vragen die je kunt stellen:

Welke hobby's doe je graag?

Wil je het samen met anderen doen of alleen?

Hoeveel keer per week wil je het doen?

Wil je onmiddellijk starten of het eerst eens proberen?

Wil je graag met iemand praten die dit al doet?



Naam:

L3

SPORTDIENST



Sportdienst

Je wilt graag weten welke sportwedstrijden men in jouw gemeente organiseert.

Vragen die je kunt stellen:

Wil je meedoen of wil je vooral kijken?

Wil je graag helpen?

Zijn er sporten die je echt interesseren?

Welke sporten vind je niet leuk?

Wil je zelf sporten in een club?

Wil je iemand spreken die dit al doet?

POLITIE



Politie

Je fiets is gestolen.

Vragen die je kunt stellen:

Waar is je fiets gestolen?

Wanneer heb je het gemerkt?

Hoe ziet je fiets eruit?

Heb je een foto van je fiets?

Heeft de politie je fiets gegraveerd (dat wil zeggen dat er een nummer op je fiets staat)?

Zou het kunnen dat iemand die je kent hem even leende?

CULTUUR



Cultuur: alles wat te maken heeft met kunst, dans, muziek, toneel, tentoonstellingen ...

Je bent gek op dans en wilt graag weten of er in de gemeente een balletvoorstelling is.

Vragen die je kunt stellen:

Vertel dat er een lijst is met alle voorstellingen. Je kunt die samen bekijken.

Moet het ballet zijn?

Mag het ook een andere voorstelling zijn?

Weet je waar de voorstellingen plaatsvinden?

TECHNISCHE DIENST



Technische dienst: zo'n beetje de klusjesdienst van de gemeente

Voor de school ligt een straatsteen los.

Vragen die je kunt stellen:

Waar ligt die steen precies?

Wat voor steen is het?

Is het gevaarlijk? Moet het dringend gemaakt worden?

Is er al een ongeluk gebeurd?

Weet je hoe het komt dat de steen losligt?

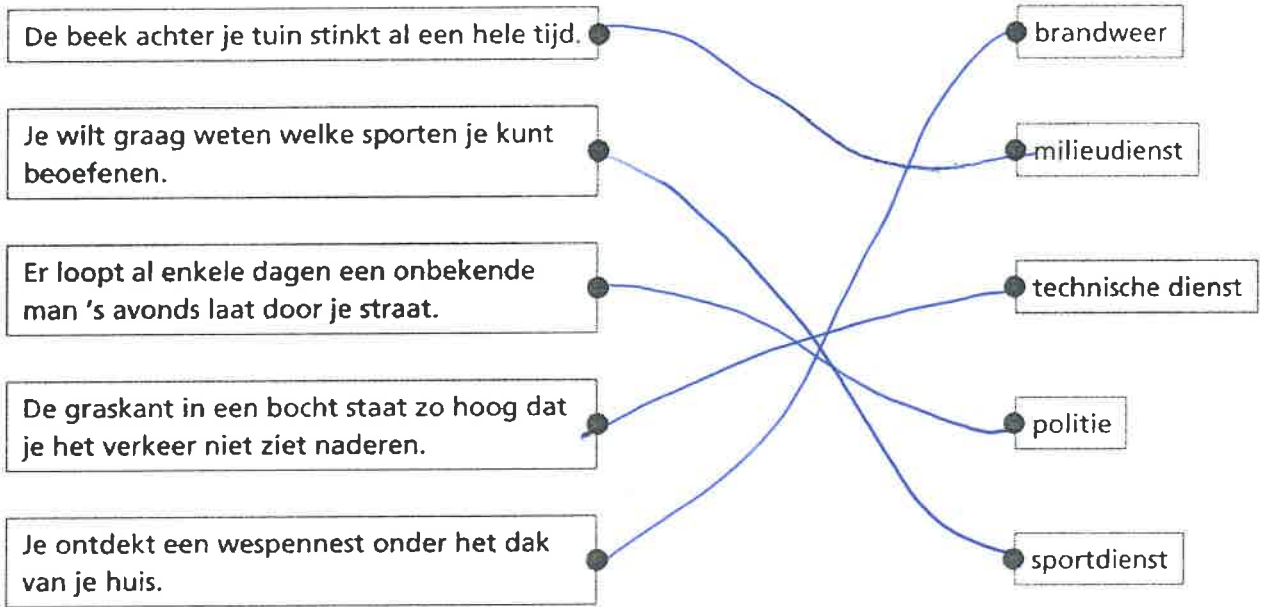
Is het al eerder gebeurd?



Naam:

L3

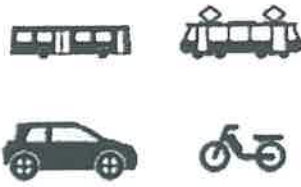
■ Bij welke dienst moet je zijn? Verbind.



■ Plaats de juiste dienst bij het juiste pictogram. Kies uit: brandweer - technische dienst - milieudienst - openbaar vervoer (mobiliteit) - sportdienst - jeugddienst - politie - cultuurdienst.



technische dienst



openbaar vervoer



milieudienst



brandweer



politie



jeugddienst



cultuurdienst



sportdienst




Naam:

L3

Verschillende soorten landschappen.

■ Geef de kenmerken die bij het landschap horen dezelfde kleur.



weinig groen en open ruimte	opslagplaatsen	huizen verspreid	zon, zee en strand
fabrieken	druk verkeer	haven	industrie
pretpark	toerisme	landbouw	hoogbouw

Vaak zie je een gemengd landschap.

■ Kijk goed naar de foto's.

■ Kleur telkens het bolletje bij de juiste benaming.

		
<input checked="" type="radio"/> natuurlandschap	<input type="radio"/> natuurlandschap	<input type="radio"/> natuurlandschap
<input type="radio"/> stadslandschap	<input checked="" type="radio"/> stadslandschap	<input type="radio"/> stadslandschap
<input type="radio"/> fabriekslandschap	<input type="radio"/> fabriekslandschap	<input checked="" type="radio"/> fabriekslandschap
<input checked="" type="radio"/> toeristisch landschap	<input checked="" type="radio"/> toeristisch landschap	<input checked="" type="radio"/> toeristisch landschap

OPDRACHT 3

Mijn gemeente heeft vooral een stads & natuurlijke landschap.




Naam:

L3


- Kies het beste landschap voor Tom, Samira en Lies.
- Kleur je keuze.



Tom wil graag een kippenkwekerij beginnen.




Samira houdt ervan om dicht bij winkels en restaurants te wonen.



Lies heeft een zeilbootje en wil graag een aantal keer per week gaan zeilen.



- Bekijk de foto's.
- Wat heeft de mens veranderd aan deze landschappen? Noteer dat onder de foto.



palen/blug bomen omgehakt

appartementen



GO! BASISCHOOL

Mijlpaal

Lid van Scholengroep Gent
Groenewandeling 80, 9031 Drogen
Tel: 09/ 226 75 00 - Fax: 09/ 226 92 56

e-mail: bs.mijlpaal@pantarhei.be

website: www.bsmijlpaal.be

Naam:

L3

Thema: Het zit in de familie

■ Beantwoord de vragen.

Wanneer begint jouw geschiedenis? geboorte

Wanneer eindigt jouw geschiedenis? nu

Hoe noemen we alles wat nog moet komen? toekomst

2 MIJN LEVENSLIJN

Een levenslijn lees je van links naar rechts.

■ Noteer boven elke foto hoe je zo'n kind noemt.

baby reuter kleuter schoolkind

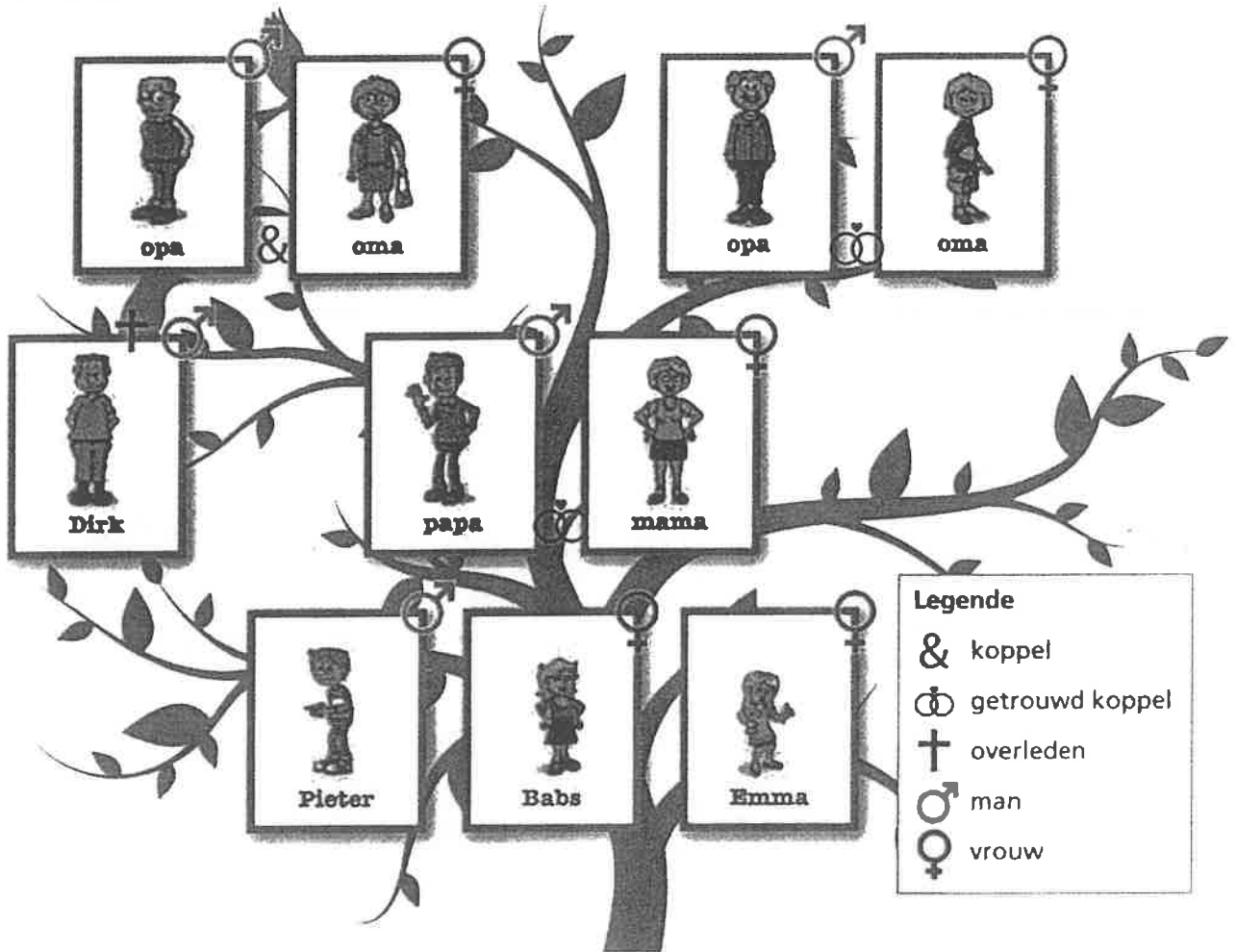
0-1 jaar 1-3 jaar 3-6 jaar 6-12 jaar



Naam:

L3

Bekijk de stamboom van Emma.



Hoeveel broers heeft Emma? 1

Hoe heet de zus van Emma? Babs

Heeft de mama van Emma een zus? nee

Heeft de papa van Emma een broer? ja

Hoe noemt Emma hem? monkel

Wat kun je zeggen over deze man? hij is gestouwen

Hoe weet je dat? er staat een kruis

Waarom staan er twee ringen tussen de ouders van Emma? getrouwd

Zijn de ouders van Emma's papa getrouwd? nee

Hoeveel kleinkinderen heeft de oma van Emma? 3



GO! BASISCHOOL

Mijlpaal

Lid van Scholengroep Gent
Groenewandeling 80, 9031 Drogen
Tel: 09/ 226 75 00 - Fax: 09/ 226 92 56

e-mail: bs.mijlpaal@pantarhei.be

website: www.bsmijlpaal.be

Naam:

L3

Verschillende soorten gezinnen. Ik kan iets vertellen over de volgende gezinsvormen en ik kan deze vergelijken met mijn eigen gezin.





GO! BASISCHOOL

Mijlpaal

Lid van Scholengroep Gent
Groenewandeling 80, 9031 Drogen
Tel: 09/ 226 75 00 - Fax: 09/ 226 92 56

e-mail: bs.mijlpaal@pantarhei.be

website: www.bsmijlpaal.be

Naam:

L3

De koninklijke familie

Ons land heeft een koning en een koningin. We noemen hen en hun familie de koninklijke familie van ons land. Onze koning heeft niet echt veel macht, maar hij is wel een belangrijke figuur. Hij geeft goede raad, ontvangt en bezoekt mensen en houdt toespraken. Als hij te oud is of sterft, volgt zijn zoon of dochter hem op. Dat is dan de troonopvolger.

Vroeger konden alleen jongens troonopvolger worden. De eerstgeboren zoon van de koning was dan de volgende koning. Sinds 1991 mogen ook meisjes koningin worden in ons land. Prinses Elisabeth is de eerstgeboren dochter van koning Filip. Zij is onze troonopvolgster.





GO! BASISCHOOL
Mijlpaal

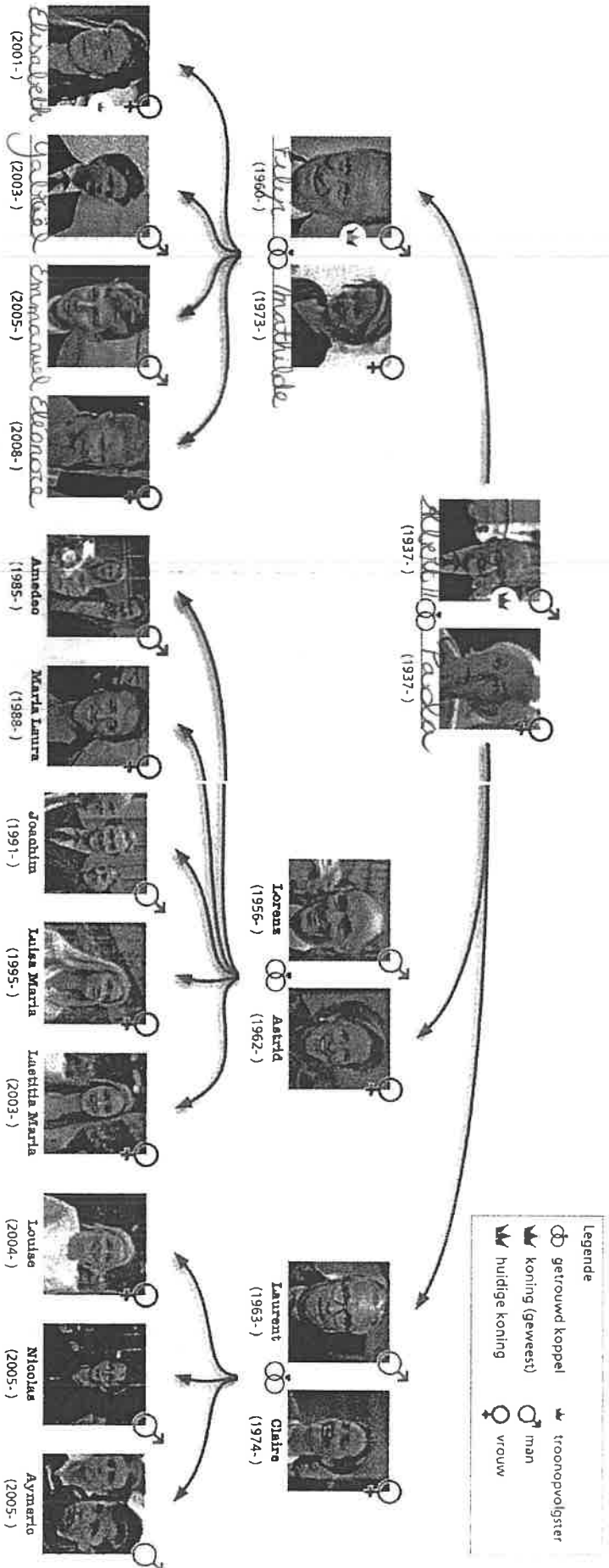
Lid van Scholengroep Gent
Groenewandeling 80, 9031 Drogen
Tel: 09/ 226 75 00 - Fax: 09/ 226 92 56

e-mail: bs.mijlpaal@par-tarhei.be

website: www.bsrmijlpaal.be

Naam:

L3





Naam:

L3

Beantwoord de vragen bij de stamboom.

Wie is de mama van Elisabeth? Mathilde

Hoeveel zonen heeft koning Filip? 2

Wie zijn de schoonzussen van koningin Mathilde? Astrid & Claire

Hoe heten de nonkels van Eléonore? Lorenz & Laurent

Hoeveel kinderen hebben Laurent en Claire? 3

Hoe heet de oma van Emmanuel? Paola

Hoeveel kleinkinderen heeft Albert II? 12

Hoeveel broers heeft Louise? 2

Hoeveel neefjes heeft Luisa Maria? 4

Wie is de grootvader van Joachim? Albert II

Kijk naar het geboortjaar van Nicolas en Aymeric. Wat leid je daaruit af?

Het is een tweeling.

Vul in.

Kies uit: *man* – *ouders* – *grootouders* – *zus* – *nonkel* – *nicht*.

Laurent is de man van Claire.

Astrid is de zus van Filip en Laurent.

Albert II en Paola zijn de grootouders van Elisabeth, Laetitia Maria en Nicolas.

Laurent is de nonkel van Amedeo.

Albert II en Paola zijn de ouders van koning Filip.

Maria Laura is de nicht van Eléonore.



Naam:

L3

De koningen van België.

34 Schrijf bij elke koning een aantal kernwoorden op waardoor je zijn verhaal onthoudt en kunt navertellen.

<p>1830: Na een opera worden de mensen boos.</p> <p>België ontstaat er is geen koning op 21/07: eedaflegging</p>	<p>Leopold I</p>	
<p>Leopold II</p> <p>mensen in Congo straffen, kroon is gestolen</p>	<p>Albert I</p> <p>W.O. I van een rots gevallen</p>	<p>Leopold III</p> <p>W.O. II eerst een dochter, daarna een kroon</p>
<p>Boudewijn</p> <p>kan geen kinderen krijgen</p>	<p>Albert II</p> <p>deed kroon- afstand</p>	<p>Filip</p> <p>dochter is kroonopvolgster</p>





Naam:

L3

Hoeveel koningen hebben al gezworen een goede koning voor alle Belgen te zijn? 4

Heeft in België ooit al een koningin geregeerd? nee

Bij welk land hoorde ons land voordat we een koning hadden? Nederland (Verenigd Koninkrijk der Nederlanden)

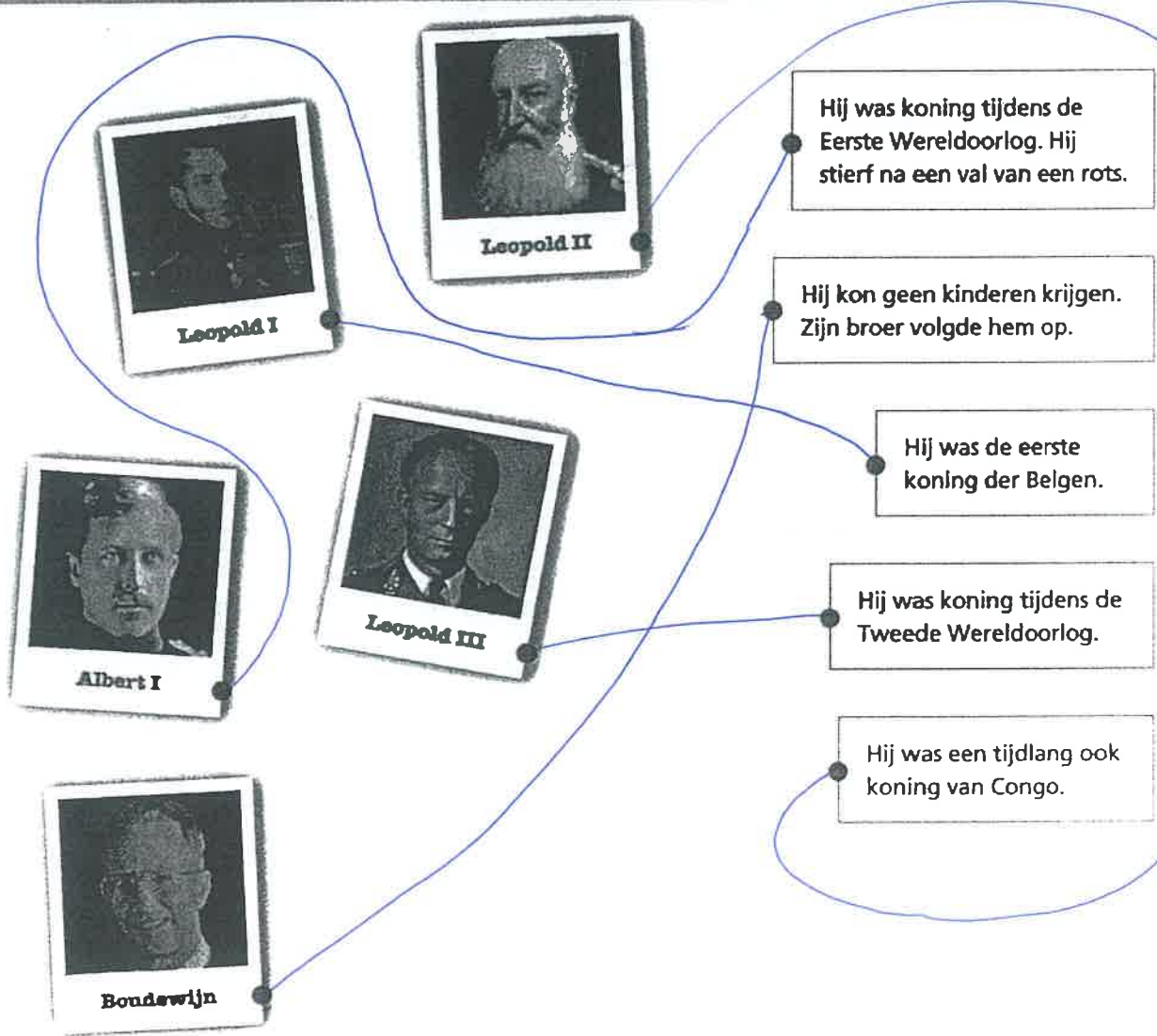
Hoeveel Leopolds waren al eens koning van België? 3

Hoeveel Alberts waren al eens koning van België? 2

Wie zijn de andere koningen? Boudewijn & Filip

Van welk land in Afrika was België ooit de baas? Congo

Wie is nu onze troonopvolger? Elisabeth





GO! BASISCHOOL

Mijlpaal

Lid van Scholengroep Gent
Groenewandeling 80, 9031 Drongen
Tel: 09/ 226 75 00 - Fax: 09/ 226 92 56

e-mail: bs.mijlpaal@pantarhei.be

website: www.bsmijlpaal.be

Naam:

L3

Ik herken deze gebouwen.

