



Naam:

L3

Vorbereiding eindtoets problemen oplossen

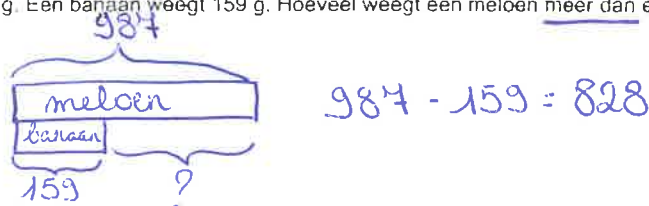
1. Lees en los op.

Teken het strookmodel (deel-geheel of vergelijkingsmodel).

Noteer de bewerking en reken uit.

Een meloen weegt 987 g. Een banaan weegt 159 g. Hoeveel weegt een meloen meer dan een banaan?

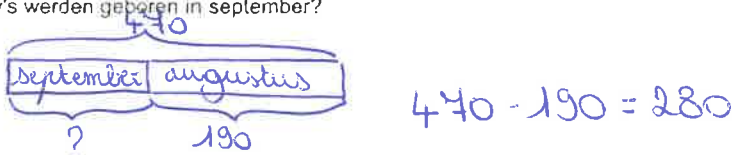
Bewerking:



Antwoord: Een meloen weegt 828g meer.

In augustus en september werden in totaal 470 baby's geboren. Er werden 190 baby's geboren in augustus. Hoeveel baby's werden geboren in september?


Bewerking:



Antwoord: In september werden 280 baby's geboren.

De diertuin koopt wekelijks 1000 kg voedsel aan waarvan 327kg noten. Hoeveel kg ander voedsel wordt elke week aangekocht?


Bewerking:



Antwoord: Er wordt elke week 673 kg ander voedsel aangekocht.

Koen heeft 430 zwarte knikkers. Hij heeft 90 rode knikkers meer dan zwarte knikkers. Hoeveel rode knikkers heeft Koen?

Bewerking:



Antwoord: Koen heeft 520 knikkers.

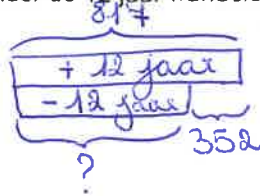


Naam:

L3

Op een wandeling zijn er 817 kinderen boven de 12 jaar. Er zijn 352 kinderen minder onder de 12 jaar. Hoeveel kinderen onder de 12 jaar wandelen mee?

Bewerking:

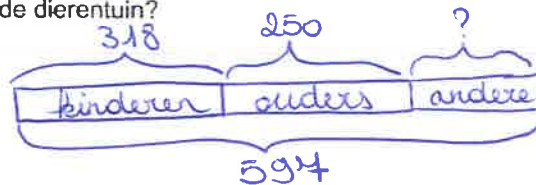


$$817 - 352 = 465$$

Antwoord: Er wandelen _____ kinderen onder de 12 jaar mee.

Er zijn 597 bezoekers in de dierentuin. Daarvan zijn er 318 kinderen en 250 ouders. Hoeveel andere mensen zijn er nog in de dierentuin?

Bewerking:




$$597 - 318 - 250 = 29$$

Antwoord: Er zijn nog 29 andere mensen in de dierentuin.

Seppe spaart voor een trampoline. De trampoline kost €275. In zijn spaarpot zit nu €182. Hoeveel heeft hij te weinig om de trampoline te kunnen kopen?

Bewerking:




$$275 - 182 = 93$$

Antwoord: Seppe heeft nog 93 te weinig.

In de rode emmer zit 370 cl water. In de blauwe emmer zit 520 cl water. Hoeveel water zit er meer in de blauwe emmer dan in de rode emmer?

Bewerking:



$$520 - 370 = 150$$

Antwoord: In de blauwe emmer zit 150cl meer water.

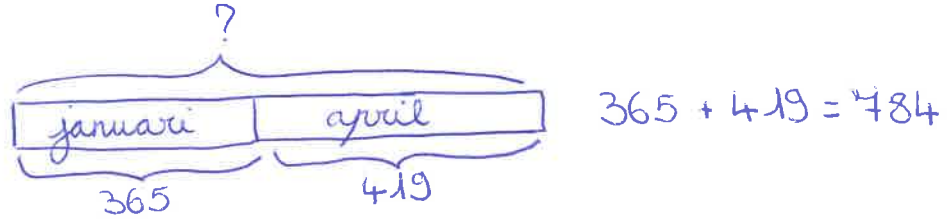


Naam:

L3

Rani spaarde €365 in januari. In april spaarde ze €419. Hoeveel euro spaarde Rani in januari en april samen?


Bewerking:



Antwoord: Rani spaarde € 784 in januari en april samen.

Saar koopt voor 379 euro kleren. Ze betaalt met een briefje van 500 euro. Hoeveel krijgt ze terug?

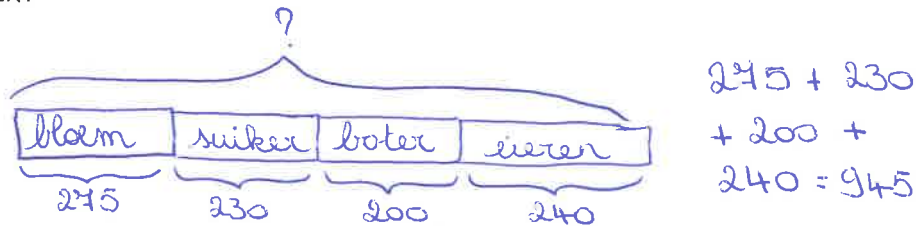
Bewerking:



Antwoord: Saar krijgt € 121 terug.

In een taart zit 275 g bloem, 230 g suiker, 200 g boter en 4 eieren. De eieren wegen samen 240 g. Hoeveel weegt de taart?


Bewerking:



Antwoord: De taart weegt 945 g.

Sander had 534 vliegers in de winkel. Hij verkocht 452 vliegers in een week. Hoeveel vliegers hield Sander over?

Bewerking:



Antwoord: Sander hield 82 vliegers over




Naam:

L3

Een appelboer heeft na de oogst 880kg appels. Op de veiling verkoopt hij de helft van zijn oogst. Hoeveel appels heeft hij nu minder dan voor de veiling?

Bewerking:




$$880 - 440 = 440$$

Antwoord: Hij heeft nu 440 kg minder appels.

In de regenton zit 91l water. Om de tuin te sproeien heb je 12l water nodig. Hoeveel water zit er nog in de regenton als je 2 dagen gesproeid hebt?

Bewerking:




$$91 - 12 - 12 = 67$$

Antwoord: Na 2 dagen sproeien zit er nog 67l in de regenton.

Oma koopt 9 m stof om gordijnen te maken. Ze maakt 2 gordijnen van elk 182 cm lang. Hoeveel stof heeft ze teveel gekocht?

Bewerking:

$$\rightarrow = 900 \text{ cm}$$



$$900 - 182 - 182 = 536$$

Antwoord: Ze heeft 536cm teveel gekocht.



Naam:

L3

2. Lees en los op. Dit zijn vraagstukken met vermenigvuldigen en delen.

De grijze poes Loes moet 8 dagen lang 3 vitamines nemen per dag. Hoeveel neemt ze er in totaal?

$8 \times 3 = 24$

De poes moet 24 vitamines nemen.

8 dagen

De papegaai Flip heeft 5 dagen 3 vitamines per dag nodig. Hoeveel vitamines heeft hij nodig in totaal?

$5 \times 3 = 15$

De papegaai heeft 15 vitamines nodig.

5 dagen



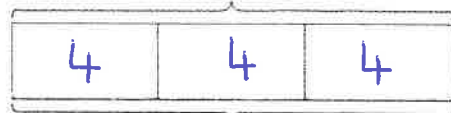
Naam:

L3

Op zaterdag viel papa in slaap, er werden maar 3 emmers van 4 kg gevangen. Hoeveel kg vis is dit samen?

12

$$3 \times 4 = 12$$



Op zaterdag vingen ze 12 kg.

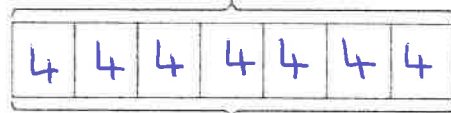
3

emmers

Op zondag maakte papa het goed en kon hij 7 emmers vullen. Hoeveel kg vis werd er dan gevangen?

28

$$7 \times 4 = 28$$



Er werd 28 kg vis gevangen.

7

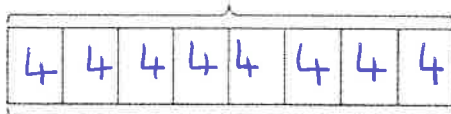
emmers

Jonas heeft 32 vissen. Hij verdeelt ze per 4 in een bokaal. Hoeveel bokalen heeft hij nodig?

32



$$32 : 4 = 8$$



Jonas heeft 8 bokalen nodig.

8

vissen

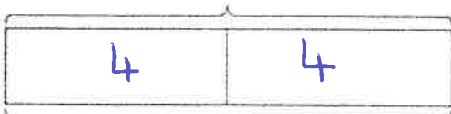
bokalen

Hij vult een emmer met 8 liter. In iedere bokaal kan 4 liter. Hoeveel bokalen kan hij vullen?

8



$$8 : 4 = 2$$



Hij kan 2 bokalen vullen.

2

bokalen



Naam:

L3

Op het verjaardagsfeest verwachten we 24 mensen.
Hoeveel taarten moeten we kopen?

24

$$24 : 8 = 3$$




We kopen taarten voor 24 mensen.

taarten

Op het eind van de dag blijven er 6 taarten over in
de bakkerij. Hoeveel stukken taart zijn dit?

48

$$6 \times 8 = 48$$



Er zijn nog stukken taart.

taarten

Op zondag eten ze in het rusthuis steeds taart.
Wekelijks brengt de bakker 8 taarten. Als iedereen 1
stuk eet, hoeveel mensen wonen er dan in
het rusthuis?

64

$$8 \times 8 = 64$$



Er wonen mensen in het rusthuis.

taarten

Bij de slager doen ze 8 stukjes vlees per satéstokje.
Er liggen 72 stukjes klaar.
Hoeveel stokjes worden er gemaakt?

72

$$72 : 8 = 9$$



Er worden satéstokjes gemaakt.

satéstokjes

Hier sloeg een foutje
in. 1 taart = 8 stukken



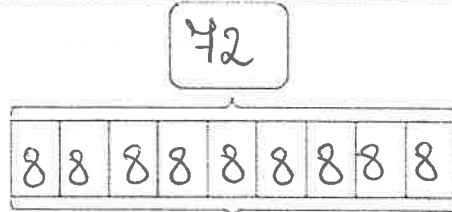
Naam:

L3

Een T-shirt van de band kost 8 euro.
Na een kwartiertje zijn er al 9 verkocht.
Hoeveel euro ligt er in de kassa?

$$8 \times 9 = 72$$

Er ligt euro in de kassa.

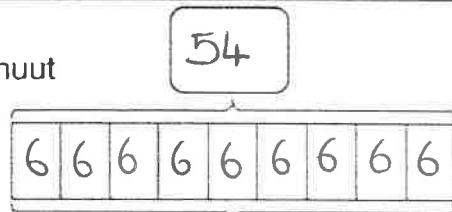


T-shirts

Na 9 minuten zijn er al 54 mensen in de zaal.
Hoeveel mensen komen er gemiddeld per minuut
binnen?

$$54 : 9 = 6$$

Er komen mensen per minuut binnen.

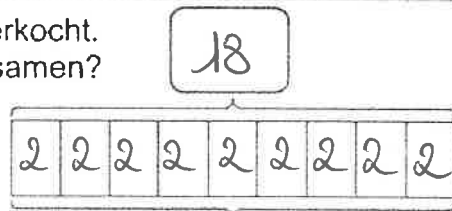


minuten

Tijdens de pauze worden er 9 zakjes chips verkocht.
1 zakje kost 2 euro. Hoeveel euro kosten ze samen?

$$9 \times 2 = 18$$

De chips kosten samen euro.



zakjes

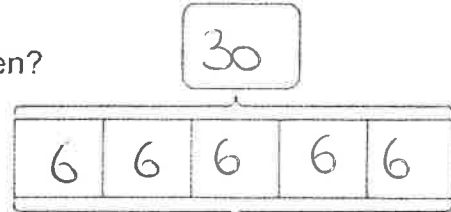


Naam:

L3

De familie De Vuyst drinkt 6 l melk per week.
Hoeveel liters melk drinkt de familie in 5 weken?

$$6 \times 5 = 30$$

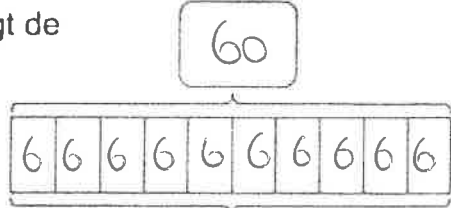


De familie drinkt 30 l melk in 5 weken.

5 weken

In de regenton kan 60 l water. Iedere dag stijgt de ton met 6 l. Na hoeveel dagen is de ton vol?

$$60 : 6 = 10$$

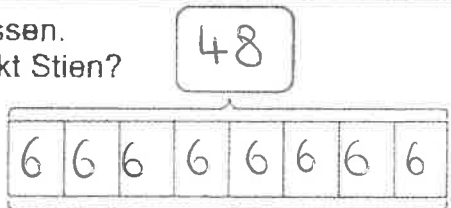


Na 10 dagen is de ton vol.

10 dagen

Stien verdeelt 48 l olijfolie over een aantal flessen.
In elke fles kan 6 liter. Hoeveel flessen gebruikt Stien?

$$48 : 6 = 8$$

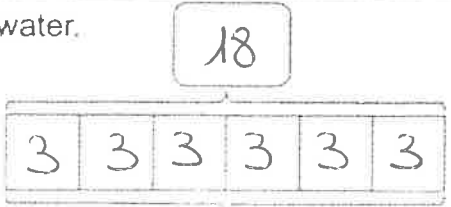


Stien gebruikt 8 flessen.

8 flessen

Afina heeft 6 vazen die ze steeds vult met 3 l water.
Hoeveel liter water heeft Afina nodig?

$$6 \times 3 = 18$$



Afina gebruikt 18 l water.

6 vazen



Naam:

L3

In week 2 kunnen de bramen geplukt worden. Iedere dag eet Jeroen er 8. Hoeveel bramen heeft hij in die week gegeten?

$$\boxed{8} \times \boxed{7} = \boxed{56}$$

Jeroen at $\boxed{56}$ bramen.

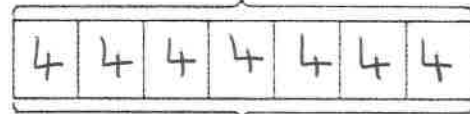


$\boxed{7}$ dagen

Mama, papa, Ben en Grim eten elk iedere dag 1 banaan. Hoeveel bananen worden er wekelijks gekocht?

$$\boxed{4} \times \boxed{7} = \boxed{28}$$

We kopen $\boxed{28}$ bananen per week.



$\boxed{7}$ dagen

In de laatste week is Charle jarig, daarom eten we iedere ochtend mini donuts. Mama kocht er 42. Hoeveel donuts liggen er dagelijks op tafel?

$$\boxed{42} : \boxed{7} = \boxed{6}$$

Dagelijks liggen er $\boxed{6}$ donuts op tafel.



$\boxed{7}$ dagen