

Klokkezen

De 24 uren schaal en de klok lezen tot op 1 minuut

Noteer de digitale uren na de middag bij de wijzerklok.





Wat een makkie!
Voor de uren na de middag
tel ik er 12 bij.
 $3 + 12 = 15$
3 uur in de namiddag
wordt dan 15 uur.

Noteer hoe laat het is. Kruis ook het juiste dagdeel aan.

- a 4:00
- Het is 4 uur
- 's nachts.
- in de namiddag.

- 14:00
- Het is 2 uur
- 's nachts.
- in de namiddag.



- b 22:00
- Het is 10 uur
- 's avonds.
- in de voormiddag.

- 6:00
- Het is 6 uur
- 's morgens.
- 's avonds.

- 16:00
- Het is 4 uur
- 's nachts.
- in de namiddag.

c Vul nu zelf het gepaste dagdeel aan.

- 0:00
- Het is 12 uur
- 's nachts.

- 13:00
- Het is 1 uur
- in de namiddag


- 10:00
- Het is 10 uur
- 's morgens.

Wat past bij de prent? Kleur het juiste klokje.



5:00

17:00



10:00

22:00



8:00

20:00



4:00

16:00

Noteer bij elk klokje hoe laat het is. Kruis ook het juiste dagdeel aan.

Klaar? Nummer de klokjes dan van vroeg (1) naar laat (5). 🗑️

5	23:56	Het is <u>11</u> uur <u>56</u>	<input type="checkbox"/> 's morgens. <input checked="" type="checkbox"/> 's avonds.
1	7:18	Het is <u>7</u> uur <u>18</u>	<input checked="" type="checkbox"/> 's morgens. <input type="checkbox"/> 's avonds.
4	16:39	Het is <u>4</u> uur <u>39</u>	<input checked="" type="checkbox"/> 's namiddags. <input type="checkbox"/> 's nachts.
3	11:27	Het is <u>11</u> uur <u>27</u>	<input checked="" type="checkbox"/> 's voormiddags. <input type="checkbox"/> 's avonds.
2	10:13	Het is <u>10</u> uur <u>13</u>	<input checked="" type="checkbox"/> 's voormiddags. <input type="checkbox"/> 's avonds.

Lees de zin. Hoe laat is het? Kleur het juiste klokje.

Het is 10 uur 13 's morgens.	10:13	13:10
Het is 8 uur en 7 's ochtends.	20:07	8:07
Het is 4 uur 39 's middags.	16:39	4:39
Het is 3 uur 54 's nachts.	15:54	3:54

Reis door de tijd. Vul aan en zet de cijferklokjes juist.

a

Het is 6 uur 35

6:35

- 's ochtends.
- 's middags.
- 's avonds.

10 minuten geleden was het:

6:25

Het is 7 uur 45

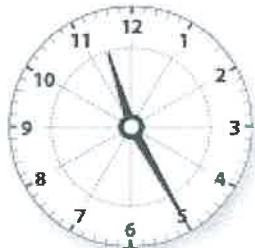
19:45

- 's ochtends.
- 's middags.
- 's avonds.

Over een kwartier is het:

20:00

b



Het is 11 uur 25
of 23 uur 25
's avonds.

Over een halfuur is het:

23:55



Het is 2 uur 50
of 14 uur 50
's middags.

25 minuten geleden was het:

14:25

Naam _____



GO! BASISCHOOL
Mijlpaal

Geef elk cijferklokje de kleur van het bijpassende wijzerklokje.

9:10


9:11

9:12

9:13

9:14

9:15



Kijk naar de wijzerklok. Zet de cijferklok juist. Noteer hoe laat het is.

Het is voormiddag.



10:04

Het is 10 uur 4.

Het is ochtend.



07:26

Het is 7 uur 26.

Het is namiddag.



16:38

Het is 4 uur 38.

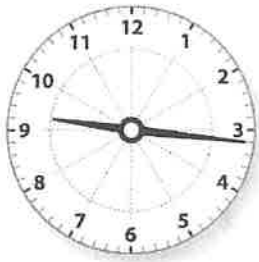
Naam _____



GO! BASISCHOOL
Mijlpaal

Vul de cijferklokjes aan en noteer hoe laat het is.

Het is voormiddag.



09:16

Het is 9 uur 16.

Het is avond.



17:51

Het is 5 uur 51.

Het is nacht.



14:34

Het is 2 uur 34.



Een dagje in de zoo. Vul de juiste tijd in en zet de cijferklokjes juist.



Om 7 uur 9

heeft de giraf zijn ontbijt opgegeten.

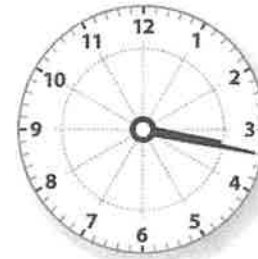
07:09



Om 11 uur 54

in de voormiddag eindigt de zeeleeuwenshow.

11:54



Precies om 3 uur 17

in de namiddag brak het struisvogelei.

15:17

Zet de cijferklokjes juist. Noteer hoe laat het is.

Het is ochtend.



08:29

Het is 8 uur 29.

Het is middag.



12:48

Het is 12 uur 48.

Het is avond.



21:56

Het is 9 uur 56.

Vul de cijferklokjes aan en zeg hoe laat het is.

a Het is voormiddag.

04:13	12:59	08:21	03:44
<u>4</u> uur <u>13</u>	<u>12</u> uur <u>59</u>	<u>8</u> uur <u>21</u>	<u>3</u> uur <u>44</u>

b Het is namiddag.

22:48	18:19	14:36	21:03
<u>10</u> uur <u>48</u>	<u>6</u> uur <u>19</u>	<u>2</u> uur <u>36</u>	<u>9</u> uur <u>3</u>

Naam _____



GO! BASISCHOOL
Mijlpaal

Met cijferklokjes is dit een makkie ... Je hoeft enkel goed te tellen.

START	STOP	START	STOP
18:07	18:24	7:26	7:48
Duur: <u>17</u> minuten		Duur: <u>22</u> minuten	
START	STOP	START	STOP
6:22	6:45	15:16	15:50
Duur: <u>23</u> minuten		Duur: <u>34</u> minuten	

Op treinreis in Italië Bereken de tijdsduur tussen de ritten

Gelati	12:06
Parma	12:12
Balsamico	12:21
Marsala	12:29
Fegato	12:33
Melanzane	12:41
Carciofi	12:49
Vitello	12:55
Cannelloni	13:00

Schrijf eerst het vertrek- en het aankomstuur op.

OPGELET! Het vertrekuur is gelijk aan het aankomstuur.

Bv. De trein vertrekt in Parma om 12 uur 12. Dat is ook het uur dat hij in dat station aankomt.

Van Fegato naar Vitello

van 12:33 tot 12:55

duur: 22 minuten

Van Gelati naar Carciofi

van 12:06 tot 12:49

duur: 43 minuten

Van Carciofi naar Vitello

van 12:49 tot 12:55

duur: 6 minuten

Van Parma naar Cannelloni

van 12:12 tot 13:00

duur: 48 minuten

Naam _____



GO! BASISCHOOL
Mijlpaal

Hoe laat is het?



1 uur 25
of 25 over 1



1 uur 35 of
25 voor 2



3 uur 55 of
5 voor 4



6 uur 5 of
5 over 6



5 uur 25 of
25 over 5




1 uur 55 of
5 voor 2

2 Hoe laat is het? Verbind met de juiste klok rechts.




3 uur vroeger was het



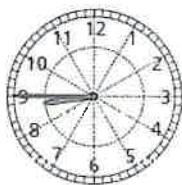
2 uur later is het



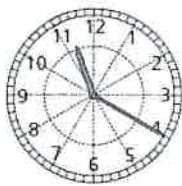
3 uur later is het



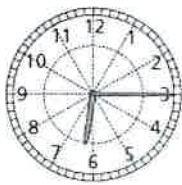
3 Hoe laat is het? Verbind met de juiste klok rechts.



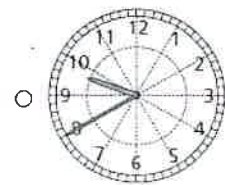
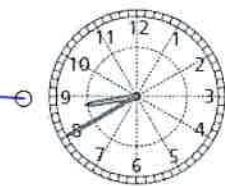
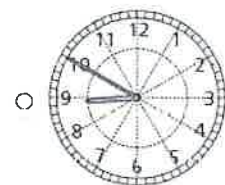
5 minuten vroeger
was het



20 minuten later
is het



15 minuten vroeger
was het

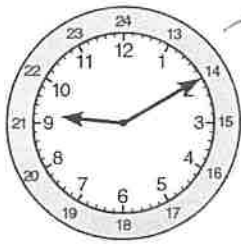


Naam _____

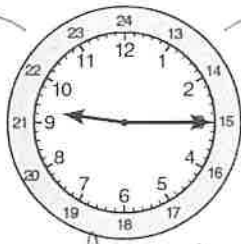


GO! BASISCHOOL
Mijlpaal

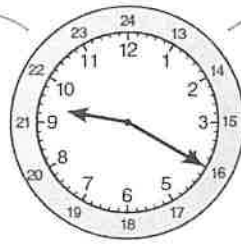
Telkens 5 minuten later! noteer het tijdstip.



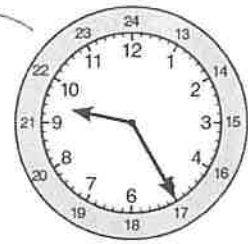
Het is 10 over 9
voor de middag.



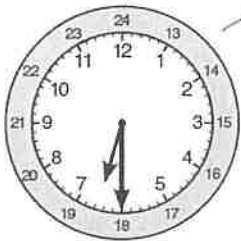
Het is kwart
over 9



Het is 20 over 9



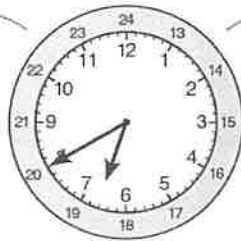
Het is 25 over 9



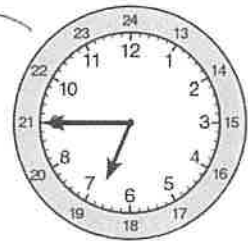
Het is 6 uur 30
's avonds.



Het is 6 uur 35



Het is 6 uur 40



Het is 6 uur 45

Lees en vul aan.

1 uur = 60 minuten

1 half uur = 30 minuten

1 kwartier = 15 minuten

2 kwartier = 1 half uur = 30 minuten

1 uur = 4 kwartier

3 kwartier = 45 minuten

Denk goed na. Vul in.

37 minuten is 4 minuten meer dan een half uur.

13 minuten is 2 minuten minder dan een kwartier

75 minuten is 1 uur en 1 kwartier.

1 uur en een half uur, dat is 90 minuten of 6 kwartier.

1 kwartier plus een half uur is in totaal 45 minuten of 3 kwartier.

