

Les 16 • In vijf minuutjes tijd

Hoe laat is het? Noteer digitaal.

De bus vertrekt om



Het is .

De school begint om



Het is .

Papa kijkt 's avonds naar een spannende film op tv.




Het is .

Tijd voor de gymles!



Het is .

Ik ga met mama winkelen.




Het is .

Mama gaat op woensdagvoormiddag naar de markt.



Het is .

De smurfen op tv!



Het is .

De school is uit. Kobe gaat naar huis.



Het is .

Vroeg uit de veren! We vertrekken op vakantie.



Het is .

Opstaan ... de wekker loopt af!



Het is .

Een gezellig avondje met popcorn!



Het is .

Muziekles van juf Ella.



Het is .

9. In de dierentuin zijn er heel wat shows en activiteiten voor de kinderen. Kijk goed naar de tabel en los de vragen op.

startuur	activiteit
13 : 10	roofvogelshow
13 : 50	apen voederen
14 : 25	dolfijnenshow
14 : 50	slangenshow
15 : 35	olifantenhok poetsen
16 : 00	giraffen voederen



De roofvogelshow is gedaan om 13.45 uur.

Hoelang duurt de show?

35 minuten

Het is nu 15.10 uur. Ik wil graag de slangenshow zien.

Hoeverveel minuten ben ik te laat?

20 minuten

Je kunt de giraffen voederen tot sluitingstijd, dat is tot 17.15 uur. Hoelang kun je de giraffen voederen?

1 uur en 15 minuten of 75 minuten

Het is nu 15.27 uur. Hoelang nog tot we mogen meehelpen om het olifantenhok te poetsen?

8 minuten

De dolfinenshow duurt een halfuur. Wanneer is die show dan gedaan?

15 u 55 minuten of 5 min voor 4 uur in de namiddag.

Herhaling klokkezen

naam:

Tijdsduur.

1. Hoe laat? Verbind met de juiste klok rechts.

6:00

2 uur later is het ...

6:45

• 7:00

7:30

3 uur later is het ...

8:00

• 10:00

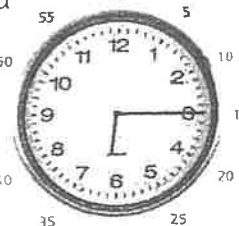



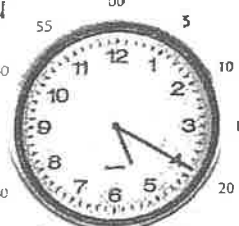







8:45

2 uur vroeger was het ...

10:30

• 10:45

2. Kleur de juiste klok.

<p>nu</p> 	<p>Op welke klok is het een kwartier (15 minuten) later?</p>		
	 <input type="checkbox"/>	 <input checked="" type="checkbox"/>	 <input type="checkbox"/>
<p>nu</p> 	<p>Op welke klok is het 10 minuten later?</p>		
	 <input type="checkbox"/>	 <input checked="" type="checkbox"/>	 <input type="checkbox"/>
<p>nu</p> 	<p>Op welke klok is het 10 minuten vroeger?</p>		
	 <input type="checkbox"/>	 <input checked="" type="checkbox"/>	 <input type="checkbox"/>

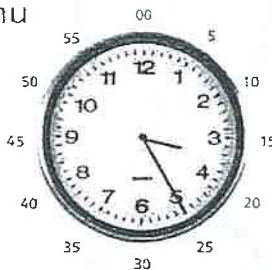
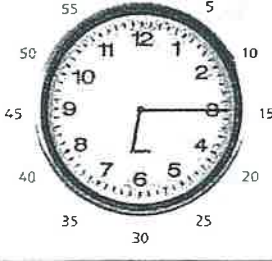
Herhaling klokkezen

naam:

3. Hoe laat is het? Vul in.

02:15	→ 3 uur later	05:15
10:35	→ 2 uur vroeger	08:35
03:05	→ 1 uur vroeger	02:05
01:25	→ 2 uur later	03:25


4. Kruis aan.

nu 	5 minuten vroeger	15 minuten vroeger	10 minuten later
	<input type="checkbox"/> 3:30	<input checked="" type="checkbox"/> 3:10	<input type="checkbox"/> 3:10
	<input type="checkbox"/> 4:30	<input type="checkbox"/> 3:35	<input checked="" type="checkbox"/> 3:35
	<input checked="" type="checkbox"/> 3:20	<input type="checkbox"/> 3:15	<input type="checkbox"/> 3:15
nu 	5 minuten later	15 minuten later	10 minuten vroeger
	<input type="checkbox"/> 6:10	<input type="checkbox"/> 6:25	<input type="checkbox"/> 6:25
	<input checked="" type="checkbox"/> 6:20	<input checked="" type="checkbox"/> 6:30	<input type="checkbox"/> 6:10
	<input type="checkbox"/> 7:20	<input type="checkbox"/> 6:05	<input checked="" type="checkbox"/> 6:05

Herhaling klokkezen

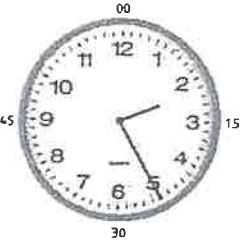
naam:

5. Vul in.



1 uur later is het 9 uur 10 minuten.

2 uur vroeger was het 6 uur 10 minuten.



1 uur later is het 13 uur 25 minuten.

2 uur vroeger was het 12 uur 25 minuten.



1 uur later is het 6 uur 55 minuten.

2 uur vroeger was het 2 uur 55 minuten.

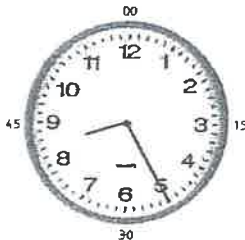
6. Vul in.



10 minuten later is het 7 uur 20 minuten.

15 minuten later is het 7 uur 25 minuten.


5 minuten geleden was het 7 uur 05 minuten.



10 minuten geleden was het 8 uur 15 minuten.

15 minuten later is het 8 uur 40 minuten.

5 minuten later is het 8 uur 30 minuten.




10 minuten geleden was het 10 uur 30 minuten.

5 minuten later is het 10 uur 45 minuten.


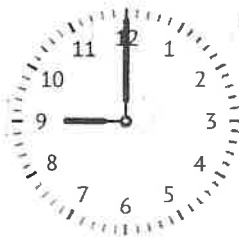
15 minuten later is het 10 uur 55 minuten.

Naam:

Hoe lang moet ik wachten op de trein?




5 uur





8 uur





4 uur





2 uur





5 uur




8 uur



9 uur




3 uur




Naam



Hoe lang moet ik wachten op het eten?




6 uur en 0 minuten




5... uur en 0.. minuten



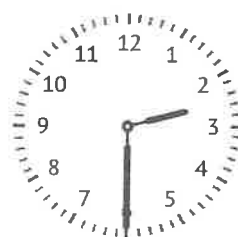
...8... uur en 30 minuten





...4... uur en 0... minuten




...3... uur en 30 minuten




...5... uur en 30... minuten



...4... uur en 30... minuten

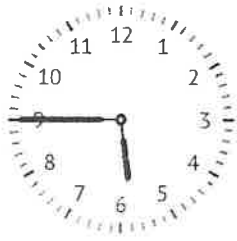


...3... uur en 0... minuten

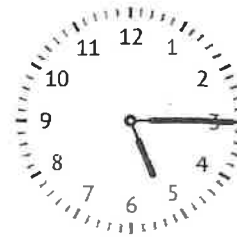
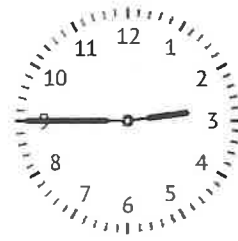


Naam



Hoe lang moet ik wachten op de trein?



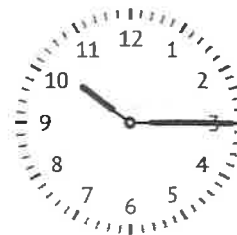

1 uur en 30 minuten




2 uur en 30 minuten



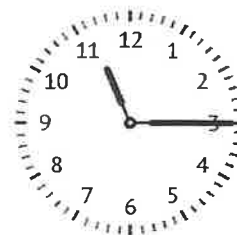

3 uur en 0 minuten





8 uur en 30 minuten





6 uur en 30 minuten



10 uur en 0 minuten



4 uur en 30 minuten



2 uur en 30 minuten

Herhaling kloklezen

naam:

3. Verbind de wijzerklok met de juiste cijferklok. Er blijft één klokje over.

The image shows six analog clocks and five digital clocks. Lines connect the analog clocks to the digital ones as follows:

- 1st analog clock (10:50) connects to 10:50.
- 2nd analog clock (8:35) connects to 8:35.
- 3rd analog clock (9:20) connects to 9:20.
- 4th analog clock (10:05) connects to 10:05.
- 5th analog clock (9:55) connects to 9:55.
- 6th analog clock (10:10) is not connected to any digital clock.

4. Kijk naar de wijzerklokjes. Zet de cijferklokjes juist.

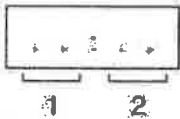
5:30	1:40	7:50	10:25
08:40	06:30	10:10	09:15
Het is 10 uur 5.	Het is 6 uur 20.	Het is 12 uur.	Het is 9 uur 35.
10:05	06:20	12:00	09:35

Herhaling klokkezen


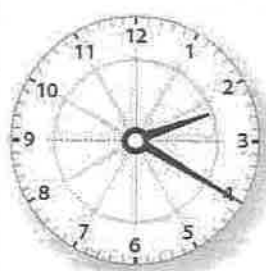
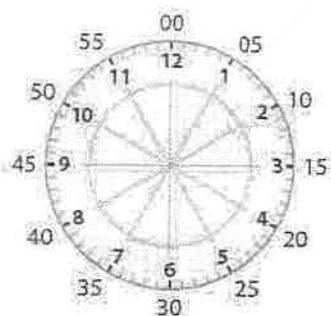
naam: Verbeetslentel

Analoge en digitale klok tot op 5 minuten.

- 1) We kijken naar de kleine wijzer.
→ Welk uur is het geweest?
- 2) We kijken daarna naar de grote wijzer.
→ Hoeveel minuten voorbij het uur is het?


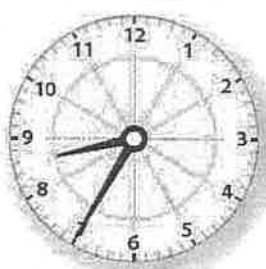




1. Hoe laat is het op deze klokjes? Noteer.



Het is 2 uur 20.

Het is 11 uur 50.



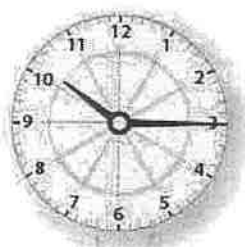
Het is 6 uur 25.

Het is 4 uur 15.

Het is 8 uur 35.

Het is 12 uur 10.


2. Kijk naar de wijzerklok. Hoe laat is het? Kleur het juiste cijferklokje.



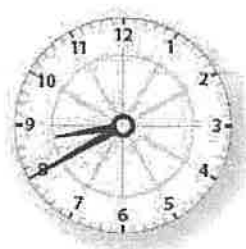
- 10:10
- 10:15
- 10:45



- 7:25
- 7:30
- 7:35



- 8:50
- 9:05
- 9:50



- 8:40
- 8:20
- 8:50